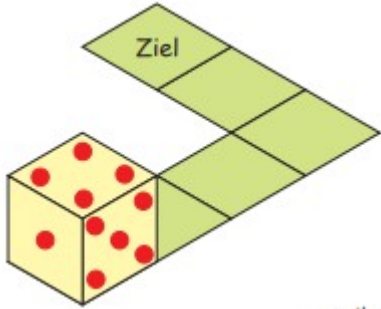
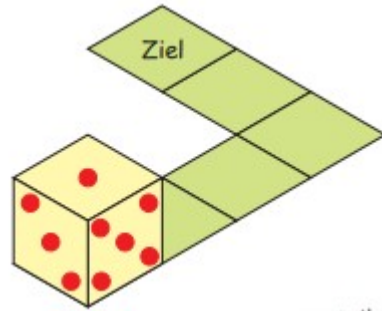


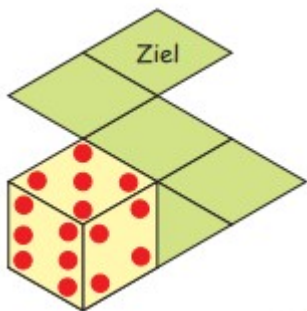
Ruota il dado seguendo il percorso fino al traguardo.
Che quantità vedi sulla faccia sopra del dado?



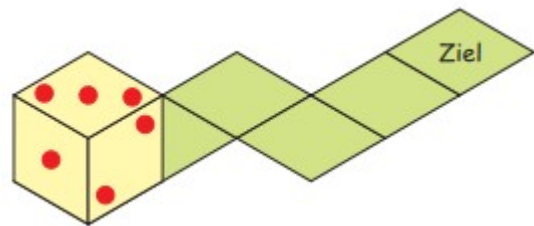
Ruota il dado seguendo il percorso fino al traguardo.
Che quantità vedi sulla faccia sopra del dado?



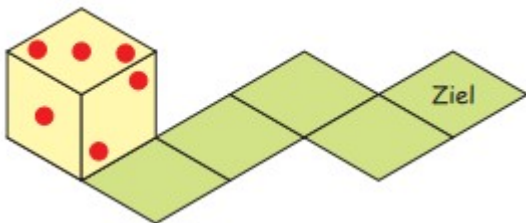
Ruota il dado seguendo il percorso fino al traguardo.
Che quantità vedi sulla faccia sopra del dado?



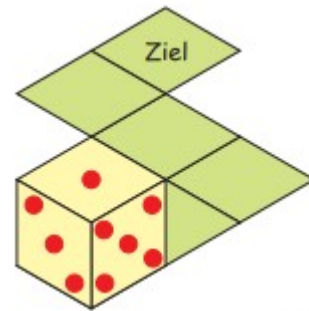
Ruota il dado seguendo il percorso fino al traguardo.
Che quantità vedi sulla faccia sopra del dado?



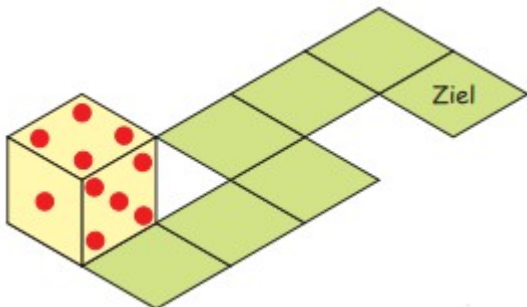
Ruota il dado seguendo il percorso fino al traguardo.
Che quantità vedi sulla faccia sopra del dado?



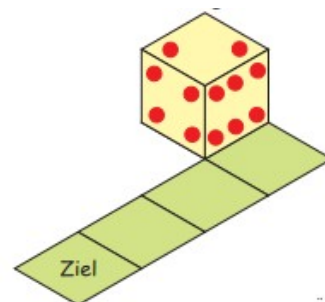
Ruota il dado seguendo il percorso fino al traguardo.
Che quantità vedi sulla faccia sopra del dado?



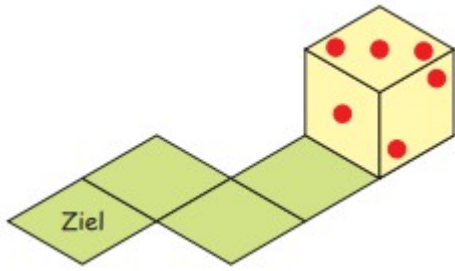
Ruota il dado seguendo il percorso fino al traguardo.
Che quantità vedi sulla faccia sopra del dado?



Ruota il dado seguendo il percorso fino al traguardo.
Che quantità vedi sulla faccia sopra del dado?



Ruota il dado seguendo il percorso fino al traguardo.
Che quantità vedi sulla faccia sopra del dado?



Ruota il dado seguendo il percorso fino al traguardo.
Che quantità vedi sulla faccia sopra del dado?

